



ATIVIDADES COMPLEMENTARES DE ESTUDO – COVID 19

ROTEIRO DE ATIVIDADES COMPLEMENTARES DE ESTUDO – COVID 19

28º ROTEIRO

ESCOLA MUNICIPAL DR. VITÓRIO FRANKLIN

PROFESSORA: LUCI ANE FERNANDES TURMA: Sala de Recurso B - Grupo 1

COMPONENTES CURRICULARES: LÍNGUA PORTUGUESA E MATEMÁTICA.

PERÍODO DE REALIZAÇÃO.13 a 24 de setembro de 2021

NOME : _____

Semana de 13 a 17 de setembro

O QUE VOCÊ VAI ESTUDAR?	Matemática: Sistema de numeração e situações problemas. Língua Portuguesa: leitura e interpretação do texto “A árvore”. Ortografia ar, er, ir, or, ur.
PARA QUE VAMOS ESTUDAR ESSES CONTEÚDOS?	Matemática: realizar contagem de 2/2, 3/3, 5/5, ordem crescente, maior e menor e situações problemas de subtração. Língua Portuguesa: ler e interpretar as questões explícitas do texto, identificar o som do R no final das sílabas.
COMO VAMOS ESTUDAR OS CONTEÚDOS?	Realizando as atividades propostas pela professora com atenção e capricho.

LÍNGUA PORTUGUESA

1- LEIA O TEXTO COM ATENÇÃO E RESPONDA A ATIVIDADE A SEGUIR:

TRABALHANDO: AR - ER - IR - OR - UR

LEIA O TEXTO.

A ÁRVORE

A ÁRVORE FICA PERTO DA CERCA.

O URSO ESTAVA ATRÁS DA ÁRVORE, OLHANDO A PORTA DA COZINHA QUE ESTAVA ABERTA.

ELE QUERIA PEGAR O POTE DE ERVILHA QUE ESTAVA NO ARMÁRIO.

ORLANDO VIU O URSO PERTO DA ÁRVORE E FECHOU A PORTA.

ISABEL CRISTINA S. SOARES



ATIVIDADES COMPLEMENTARES DE ESTUDO – COVID 19



1 - O TÍTULO DO TEXTO:

2 - A ÁRVORE FICA PERTO:

3 - ESTAVA ATRÁS DA ÁRVORE:

4 - PARA ONDE O URSO OLHAVA:

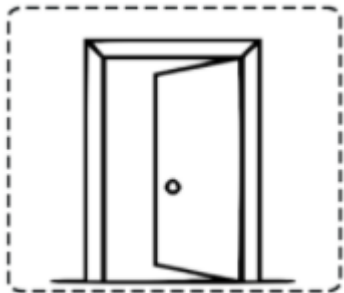
5 - O QUE O URSO QUERIA:

6 - ONDE ESTAVA O POTE:




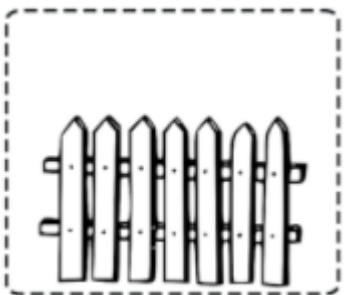
ATIVIDADES COMPLEMENTARES DE ESTUDO – COVID 19

2- ESCREVA O NOME DOS DESENHOS:













3- ESCOLHA DOIS DESENHOS E FORME FRASES:



ATIVIDADES COMPLEMENTARES DE ESTUDO – COVID 19

MATEMÁTICA

1- DESCUBRA A SEQUÊNCIA E COMPLETE OS QUADRADINHOS:

A) 10	20	30	<input type="text"/>	<input type="text"/>	<input type="text"/>	<input type="text"/>	<input type="text"/>	<input type="text"/>
B) 2	4	6	<input type="text"/>	<input type="text"/>	<input type="text"/>	<input type="text"/>	<input type="text"/>	<input type="text"/>
C) 1	3	5	<input type="text"/>	<input type="text"/>	<input type="text"/>	<input type="text"/>	<input type="text"/>	<input type="text"/>
D) 5	7	9	<input type="text"/>	<input type="text"/>	<input type="text"/>	<input type="text"/>	<input type="text"/>	<input type="text"/>

2- PINTE O MAIOR NÚMERO EM CADA DUPLA:

108	99	56	41	84	89	32	50
29	19	35	53	11	18		

3- COPIE OS NÚMEROS ABAIXO EM ORDEM CRESCENTE:

45 , 16 , 25 , 69 , 42 , 37 , 14 , 8 .

<input type="text"/>	<input type="text"/>	<input type="text"/>	<input type="text"/>	<input type="text"/>	<input type="text"/>	<input type="text"/>	<input type="text"/>
----------------------	----------------------	----------------------	----------------------	----------------------	----------------------	----------------------	----------------------



ATIVIDADES COMPLEMENTARES DE ESTUDO – COVID 19

4- LEIA E RESOLVA AS SITUAÇÕES PROBLEMAS:

A) DAVI TEM 12 ANOS. DAQUI A QUANTOS ANOS ELE TERÁ 60 ANOS?

R: _____

B) JOANA GANHOU 8 REAIS DE SEU PAI. ELA ESTÁ JUNTANDO PARA COMPRAR UMA BONECA NOVA QUE CUSTA 76 REAIS. QUANTOS REAIS ELA AINDA PRECISA JUNTAR?

R: _____

C) PEDRO ESTÁ CONTANDO OS DIAS QUE FALTAM PARA SEU ANIVERSÁRIO QUE SERÁ NO DIA 21 DE SETEMBRO. SE PEDRO ESTÁ NO DIA 15 DE SETEMBRO, QUANTOS DIAS FALTAM ATÉ O SEU ANIVERSÁRIO?

R: _____




ATIVIDADES COMPLEMENTARES DE ESTUDO – COVID 19

ALUNO: _____

Semana de 20 a 24 de setembro

O QUE VOCÊ VAI ESTUDAR?	Matemática: Leitura e interpretação de gráfico. Operações de adição e subtração. Língua Portuguesa: Escrita de palavras e frases. Leitura de frases. Ortografia AR, ER, IR, OR, UR.
PARA QUE VAMOS ESTUDAR ESSES CONTEÚDOS?	Matemática: ler e interpretar gráfico de barras. Completar as adições e subtrações com os números que faltam. Língua Portuguesa: escrever o nome dos desenhos na cruzadinha, formar frases e completar frases.
COMO VAMOS ESTUDAR OS CONTEÚDOS?	Realizando as atividades propostas pela professora com atenção e capricho.

1- ESCREVA O NOME DOS DESENHOS NA CRUZADINHA:





ATIVIDADES COMPLEMENTARES DE ESTUDO – COVID 19

2- FORME FRASES COM OS DESENHOS ABAIXO:









ATIVIDADES COMPLEMENTARES DE ESTUDO – COVID 19

3- LEIA E COMPLETE AS FRASES:



NA PRAIA TEM :



FRUTA QUE COMEÇA COM A LETRA L:

ANIMAL QUE VIVE NA ÁGUA:

UMA COR QUE TEM NA BANDEIRA DO BRASIL:

TEM NA FARMÁCIA:



A PROFESSORA É:

NÃO GOSTO DE:


HOJE O DIA ESTÁ:





ATIVIDADES COMPLEMENTARES DE ESTUDO – COVID 19

4- OBSERVE O GRÁFICO E RESPONDA AS QUESTÕES ABAIXO:



profrafaelak.blogspot.com

1. QUAL ANIMAL TEVE MAIS VOTOS?

2. QUAL ANIMAL TEVE MENOS VOTOS?

1. QUAL ANIMAL TEVE 6 VOTOS ?

2. QUANTOS VOTOS TEVE O PEIXE?

5. QUAL ANIMAL VOCÊ ESCOLHERIA?



ATIVIDADES COMPLEMENTARES DE ESTUDO – COVID 19

5- COMPLETE OS QUADRADINHOS COM OS NÚMEROS QUE FALTAM:

$8 + \square = 15$	$\square + 9 = 14$
$\square + 5 = 12$	$8 + \square = 15$
$7 + \square = 16$	$\square + 6 = 11$
$\square + 2 = 11$	$9 + \square = 12$
$3 + \square = 10$	$\square + 5 = 14$
$\square + 9 = 18$	$6 + \square = 16$
$8 + \square = 16$	$\square + 2 = 10$
$\square + 5 = 13$	$6 + \square = 13$
$8 + \square = 12$	$\square + 7 = 11$